

Тестовые задания  
 Определите один правильный ответ.  
 За правильный ответ начисляется 2 балла.

- 25 + 1. К какой группе относится изображённый знак безопасности?  
 а) пожарной безопасности  
 б) запрещающие  
 в) предупреждающие  
 г) предписывающие
- 25 + 2. Какое значение имеет визуальный международный сигнал «земля–воздух»?  
 а) «требуется помощь»  
 б) «нет»  
 в) «положительно»  
 г) «требуется медицинская помощь»
- 25 + 3. Циклон, возникающий в западной части Тихого океана, называется  
 а) тайфун  
 б) смерч  
 в) торнадо  
 г) ураган
- 25 + 4. Магнитуду землетрясения оценивают по шкале  
 а) Рихтера  
 б) Бофорта  
 в) Меркалли  
 г) Саффира–Симпсона
- 25 + 5. Одним из основных факторов, характеризующим опасность взрыва, является:  
 а) температура взрыва  
 б) части разрушившихся конструкций  
 в) повышенная температура окружающей среды  
 г) осколки разрушившихся аппаратов
- 25 + 6. Верны ли следующие суждения об энергетической ценности пищевых веществ?  
 Организм человека получает 4,1 ккал энергии при расщеплении 1 грамма А. белков Б. углеводов  
 а) верно только А  
 б) верно только Б  
 в) верны оба суждения  
 г) оба суждения неверны
- 25 + 7. Какое действие необходимо выполнить после проведения сердечно-лёгочной реанимации, если у пострадавшего восстановилось самостоятельное дыхание и кровообращение?  
 а) вызвать скорую медицинскую помощь  
 б) создать возвышенное положение верхней части туловища  
 в) перевести пострадавшего в устойчивое боковое положение  
 г) приподнять ноги пострадавшего
- 25 + 8. Вооружённое столкновение ограниченного масштаба между государствами или противостоящими сторонами в пределах территории одного государства называется  
 а) локальная война  
 б) региональная война  
 в) военно-политический конфликт  
 г) вооружённый конфликт
- 25 + 9. Верны ли суждения о том, что воинская обязанность граждан РФ предусматривает  
 А. пребывание в запасе Б. прохождение военной службы по призыву  
 а) верно только А  
 б) верно только Б  
 в) верны оба суждения  
 г) оба суждения неверны
- 25 + 10. Каков радиус убойного действия осколков ручной гранаты РГД -5?  
 а) 82 м  
 б) 25 м  
 в) 200 м  
 г) 170 м



Определите все правильные ответы.  
За каждый правильный ответ начисляется 2 балла.

- 45 + 11. Что из перечисленного относится к сопутствующим проявлениям опасным факторам пожара?  
а) снижение видимости в дыму  
б) осколки  
в) повышенная температура окружающей среды  
г) радиоактивные и токсичные вещества и материалы, попавшие в окружающую среду  
д) пламя и искры
- 45 + 12. Если Вы поднимаетесь на лифте вместе с незнакомым человеком, то рекомендуется встать  
а) к незнакомцу лицом  
б) к незнакомцу боком  
в) возле двери кабины  
г) в дальнем углу кабины  
д) лицом к кнопкам управления
- 45 + 13. Наиболее опасными периодами схода лавин являются  
а) зима с 10.00 до захода солнца  
б) весна с 10.00 до захода солнца  
в) лето с 10.00 до захода солнца  
г) осень с 10.00 до захода солнца
- 45 + 14. Верховые пожары подразделяются на  
а) внезапные  
б) беглые  
в) устойчивые  
г) кратковременные  
д) плавные
- 45 + 15. Какие признаки-улики могут говорить о том, что человек употребляет наркотики?  
а) наличие свернутых в трубочку бумажек  
б) покраснение кожи  
в) синяки на коже  
г) наличие перочинного ножа  
д) наличие зубочисток
- 45 + 16. Какие календари профилактических прививок утверждены Министерством здравоохранения РФ?  
а) национальный  
б) государственный  
в) индивидуальный  
г) по эпидемическим показаниям  
д) по состоянию здоровья
- 45 + 17. В зависимости от причины возникновения различают следующие виды ожогов:  
а) температурные  
б) биологические  
в) электрические  
г) лучевые  
д) физические
- 45 + 18. Какие страны входят в Североатлантический союз (НАТО)?  
а) Ирландия  
б) Португалия  
в) Норвегия  
г) Грузия  
д) Австрия
- 45 + 19. Защита Отечества для гражданина Российской Федерации является  
а) долгом  
б) предназначением  
в) обязательством  
г) правом  
д) обязанностью
- 45 + 20. Какие отравляющие вещества при боевом применении являются смертельными?  
а) стафилококковый токсин  
б) си-эс  
в) би-зет  
г) синильная кислота  
д) фосген

Максимум за тестовые задания – 60 баллов.

## Теоретические задания

### Задание 1

Укажите войсковые воинские звания солдат и сержантов Вооружённых Сил Российской Федерации и расположите их в порядке старшинства.

Рядовой, Ефрейтор, Младший сержант, Сержант,

Старший сержант, Старшина

Максимум за задание – 10 баллов.

105

### Задание 2

Дополните рекомендации по безопасному поведению при химической аварии:

+ – надеть противогаз (СИЗ) (1),  
закрыть окна и форточки;

+ – отключить нагревательные и бытовые электроприборы, газ, погасить огонь в печах, одеться,  
взять документы (2) и запас продуктов;

– быстро выйти из жилого массива в указанном направлении в сторону,

– противоположную (3) направлению ветра;

– в случае отсутствия средств индивидуальной защиты (противогазов, респираторов) использовать  
+ бумажные ватки (4) или изделия из ткани, смоченные водой;

– при движении по заражённой местности двигаться быстро, но не бежать и не поднимать

+ пыль (5);

– не прислоняться к зданиям и не касаться окружающих предметов;






– после выхода из зоны заражения снять верхнюю одежду и оставить её на улице (принять душ с мылом, тщательно промыть глаза и прополоскать рот).

Максимум за задание – 10 баллов.

85.

### Задание 3

Установите соответствие между дорожным знаком и группой, к которой он принадлежит. Соответствие отметьте знаком «+».

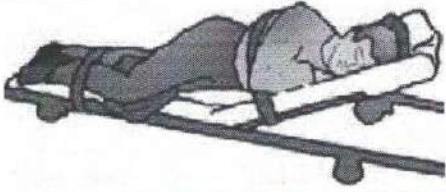

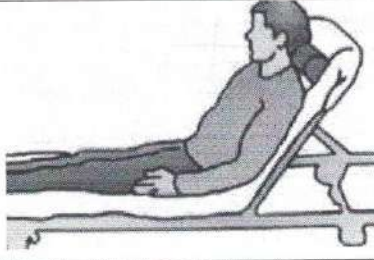

Предупреждающие знаки	Изображение	Знаки приоритета
+		
+		
+		+
+		
+		+

Максимум за задание – 10 баллов.

105.

### Задание 4

Установите соответствие между видом травмы и (или) состоянием пострадавшего и изображением оптимального положения тела: для каждой позиции первого столбца подберите соответствующую позицию из второго столбца, обозначенную цифрой. Ответ запишите в таблицу.

Вид травмы и (или) состояние пострадавшего		Оптимальное положение тела	
<b>А</b>	Одышка (затруднение дыхания), пострадавший в сознании	<b>1</b>	
<b>Б</b>	Травма живота, подозрение на внутреннее кровотечение	<b>2</b>	
<b>В</b>	Травма груди слева, отсутствие сознания	<b>3</b>	
<b>Г</b>	Острая кровопотеря (пульс на запястье не определяется), пострадавший в сознании	<b>4</b>	

А	Б	В	Г
3	1	4	2

25

- Максимум за задание – 10 баллов.

25.

Максимальная оценка за работу – 100 баллов.

45.